

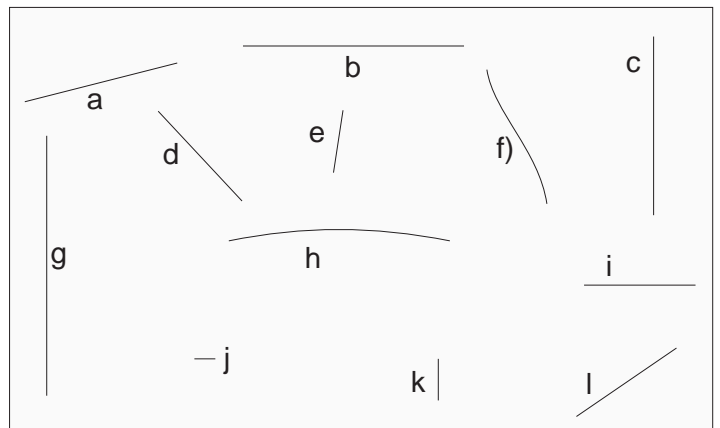
Geometrie-Arbeitsblatt 1, Kl. 5

1. In dem Kasten rechts von diesem Text findest du viele Linien.

Welche davon sind **gerade** : _____?

Wenn das Blatt an der Wand hängen würde, welche sind **lotrecht (senkrecht)** : _____?

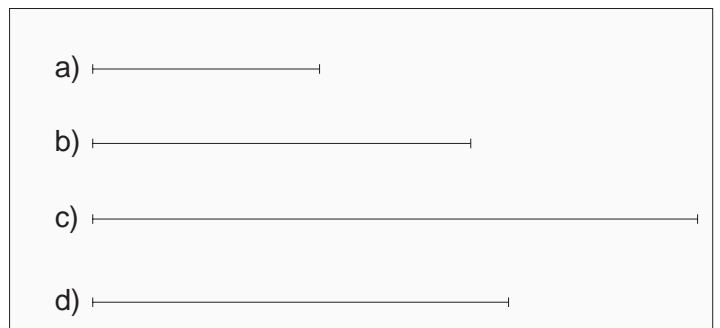
Welche sind **waagrecht** : _____?



2. Miss die Länge der Strecken im Kasten und trage die Ergebnisse hier ein:

a) _____ b) _____

c) _____ d) _____



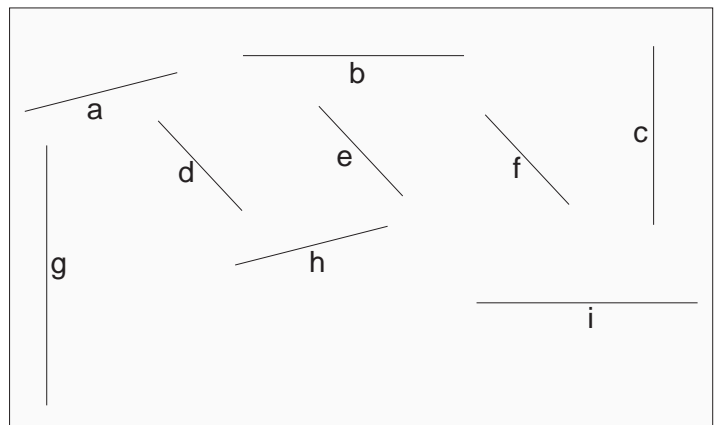
3. Rechts findest du schon wieder viele Linien. Welche davon sind zueinander

parallel : _____?

parallel : _____?

parallel : _____?

parallel : _____?



4. Und noch einmal Linien. Welche davon sind zueinander

senkrecht : _____?

senkrecht : _____?

senkrecht : _____?

senkrecht : _____?

