

Wie lange ist der Bus unterwegs?

A

Berechne die Fahrzeit des Busses von einem Ort zum anderen.

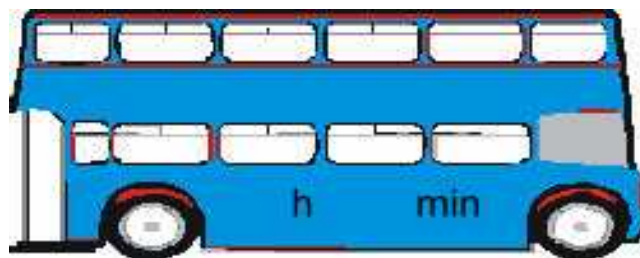
Trage das Ergebnis an der vorgesehenen Stelle im Bus ein.

Abfahrtszeit

Fahrzeit

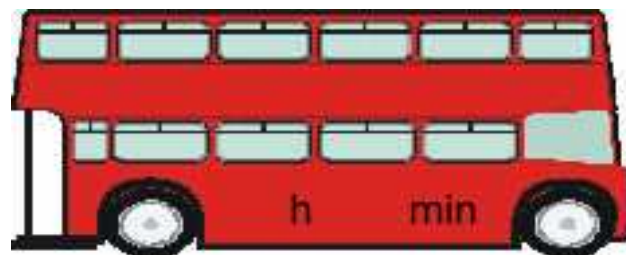
Ankunftszeit

7:24
Uhr



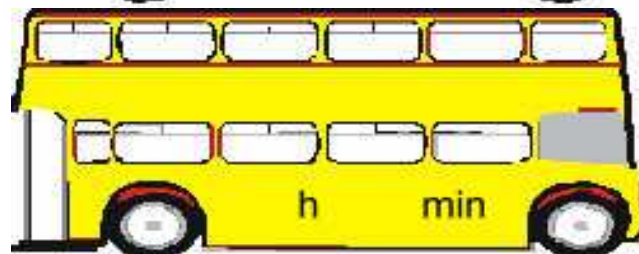
18:43
Uhr

1:21
Uhr



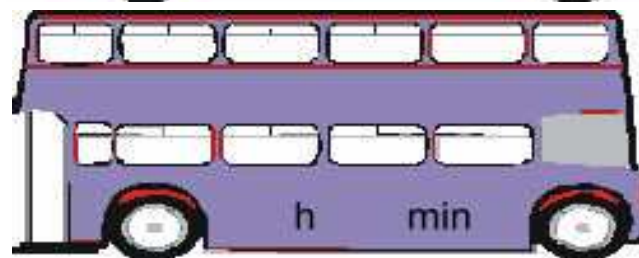
6:49
Uhr

2:14
Uhr



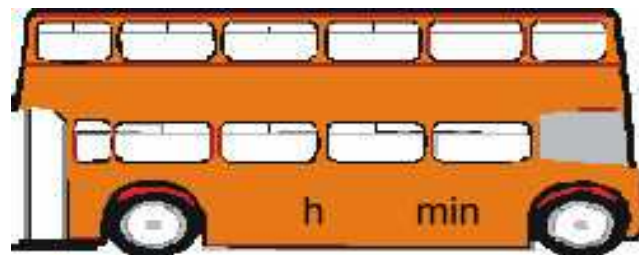
12:21
Uhr

5:10
Uhr




13:21
Uhr

2:10
Uhr



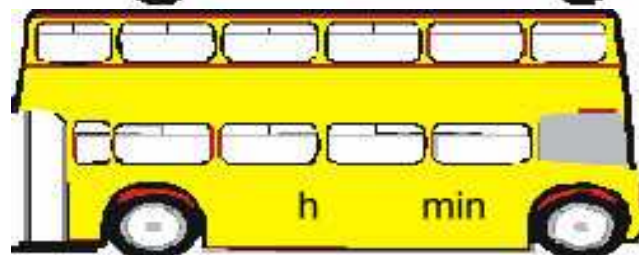
14:39
Uhr

2:24
Uhr



6:33
Uhr

5:18
Uhr



10:45
Uhr

Wie lange ist der Bus unterwegs?

B

Berechne die Fahrzeit des Busses von einem Ort zum anderen.

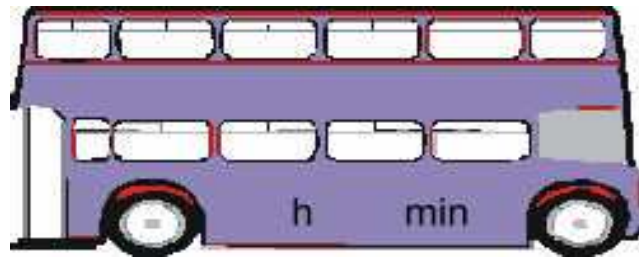
Trage das Ergebnis an der vorgesehenen Stelle im Bus ein.

Abfahrtszeit

Fahrzeit


Ankunftszeit

1:25
Uhr



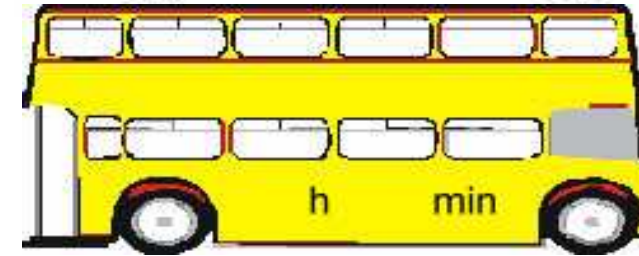
9:31
Uhr

4:17
Uhr



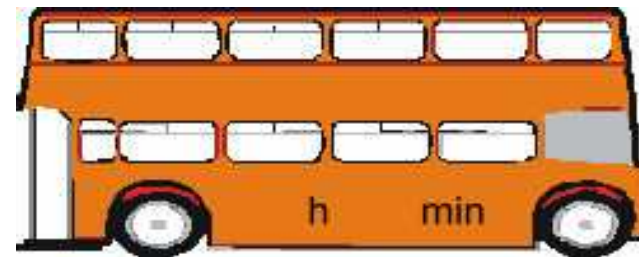
6:43
Uhr

3:22
Uhr




5:29
Uhr

4:29
Uhr



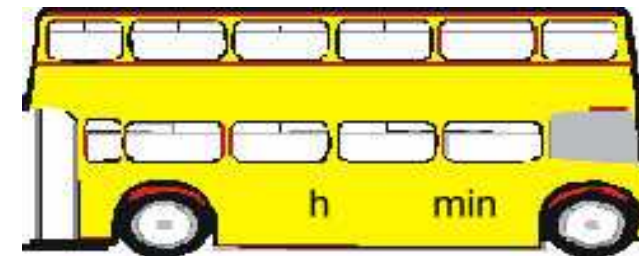
10:55
Uhr

9:21
Uhr



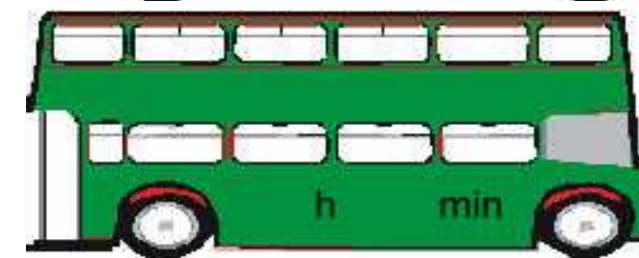
19:28
Uhr

6:21
Uhr



7:30
Uhr

7:20
Uhr



9:29
Uhr

Wie lange ist der Bus unterwegs? - Lösungen

Aufgabenblatt A			
Abf	h	min	Ank
7:24 Uhr	11	19	18:43 Uhr
1:21 Uhr	5	28	6:49 Uhr
2:14 Uhr	10	7	12:21 Uhr
5:10 Uhr	8	11	13:21 Uhr
2:10 Uhr	12	29	14:39 Uhr
2:24 Uhr	4	9	6:33 Uhr
5:18 Uhr	5	27	10:45 Uhr

Aufgabenblatt B			
Abf	h	min	Ank
1:25 Uhr	8	6	9:31 Uhr
4:17 Uhr	2	26	6:43 Uhr
3:22 Uhr	2	7	5:29 Uhr
4:29 Uhr	6	26	10:55 Uhr
9:21 Uhr	10	7	19:28 Uhr
6:21 Uhr	1	9	7:30 Uhr
7:20 Uhr	2	9	9:29 Uhr