

Wie lange ist der Bus unterwegs?

A

Berechne die Fahrzeit des Busses von einem Ort zum anderen.

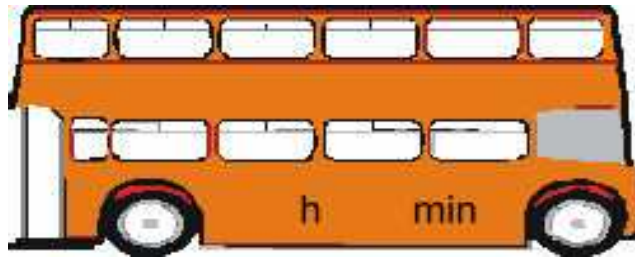
Trage das Ergebnis an der vorgesehenen Stelle im Bus ein.

Abfahrtszeit

Fahrzeit

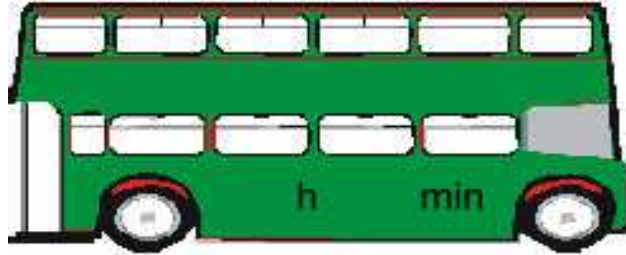
Ankunftszeit

6:37
Uhr



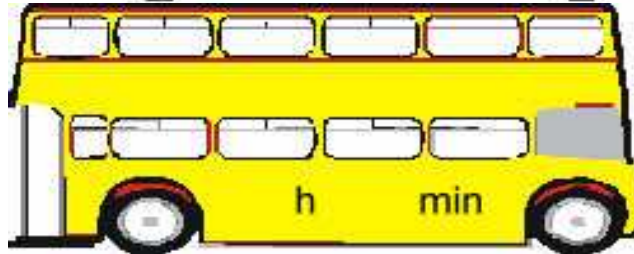
20:24
Uhr

3:37
Uhr



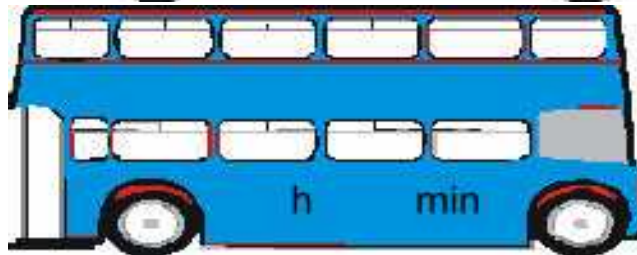
15:30
Uhr

1:49
Uhr




14:38
Uhr

4:35
Uhr



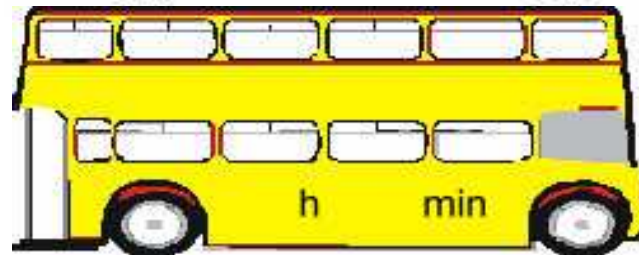
13:32
Uhr

4:44
Uhr



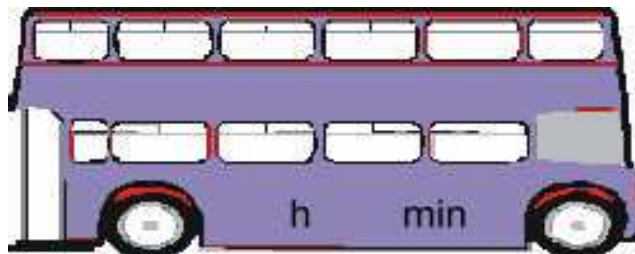
8:05
Uhr

3:44
Uhr



13:30
Uhr

5:36
Uhr



8:33
Uhr

Wie lange ist der Bus unterwegs?

B

Berechne die Fahrzeit des Busses von einem Ort zum anderen.

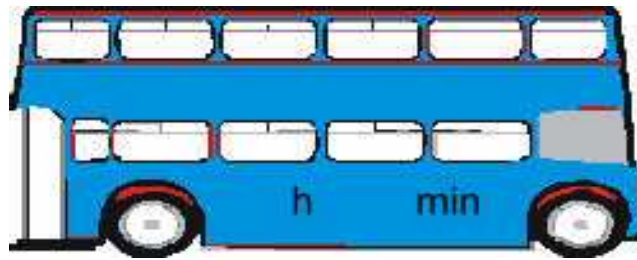
Trage das Ergebnis an der vorgesehenen Stelle im Bus ein.

Abfahrtszeit

Fahrzeit

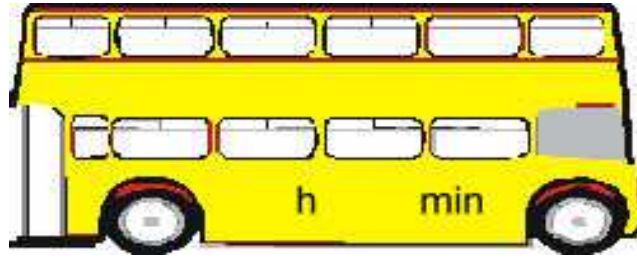
Ankunftszeit

2:31
Uhr




10:22
Uhr

9:37
Uhr



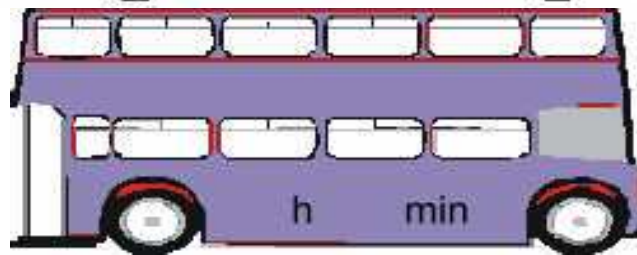
15:23
Uhr

8:45
Uhr




13:27
Uhr

2:30
Uhr



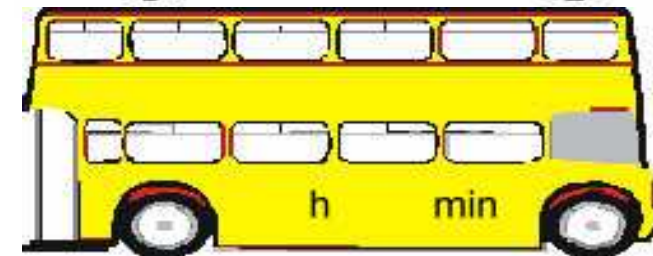
13:11
Uhr

3:46
Uhr



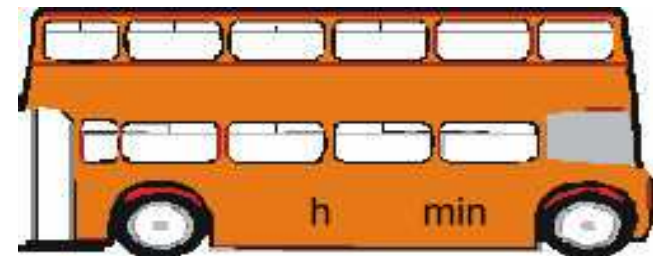
7:23
Uhr

7:34
Uhr



21:08
Uhr

2:36
Uhr



16:08
Uhr

Wie lange ist der Bus unterwegs? - Lösungen

Aufgabenblatt A			
Abf	h	min	Ank
6:37 Uhr	13	47	20:24 Uhr
3:37 Uhr	11	53	15:30 Uhr
1:49 Uhr	12	49	14:38 Uhr
4:35 Uhr	8	57	13:32 Uhr
4:44 Uhr	3	21	8:05 Uhr
3:44 Uhr	9	46	13:30 Uhr
5:36 Uhr	2	57	8:33 Uhr

Aufgabenblatt B			
Abf	h	min	Ank
2:31 Uhr	7	51	10:22 Uhr
9:37 Uhr	5	46	15:23 Uhr
8:45 Uhr	4	42	13:27 Uhr
2:30 Uhr	10	41	13:11 Uhr
3:46 Uhr	3	37	7:23 Uhr
7:34 Uhr	13	34	21:08 Uhr
2:36 Uhr	13	32	16:08 Uhr