


PLUS

MINUS

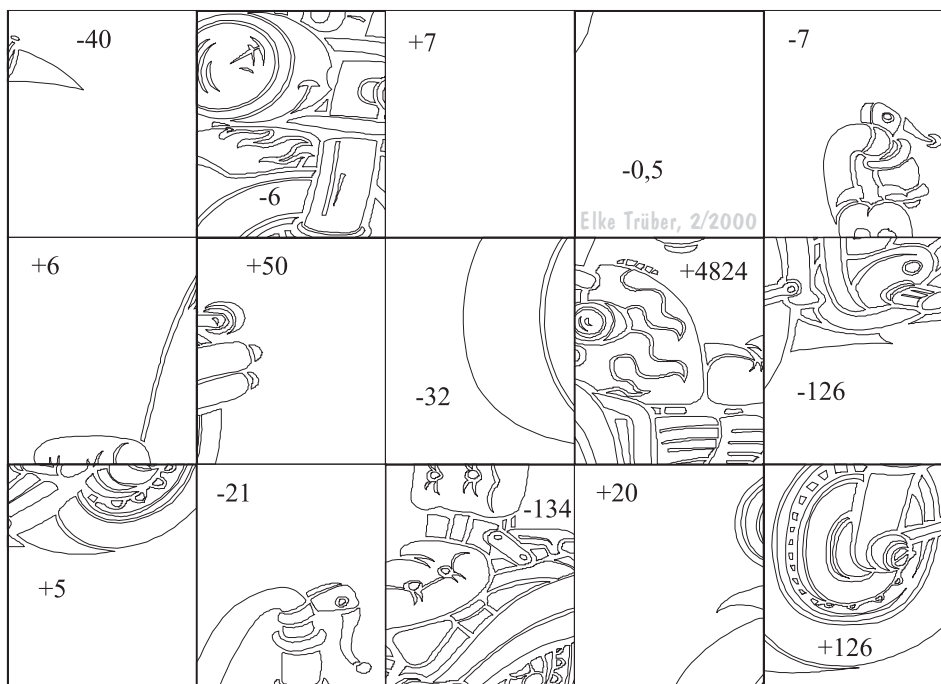
oder



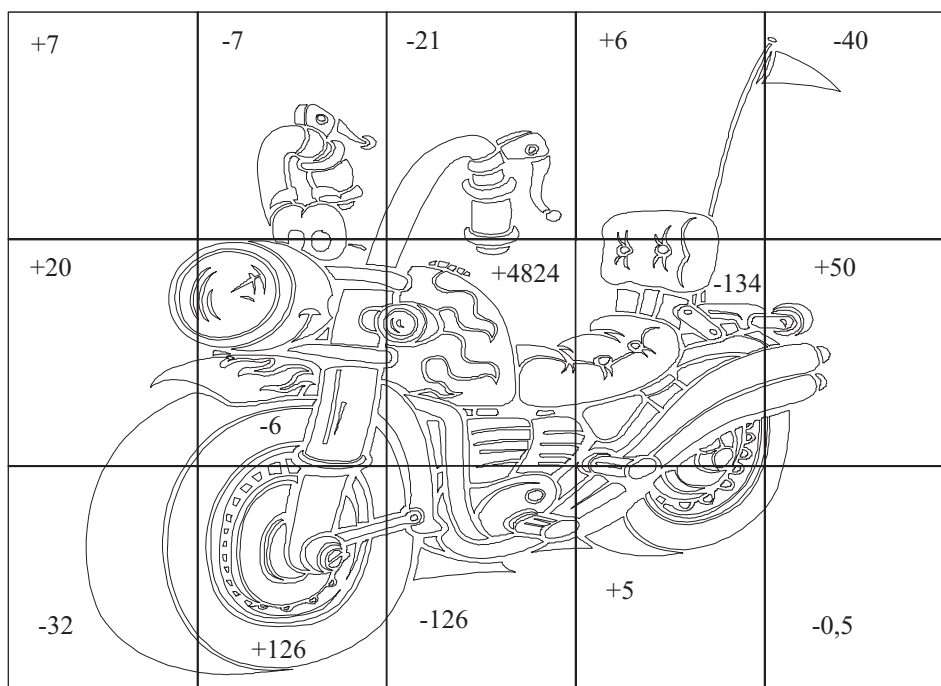
1	2	3	4	5
6	7	8	9	10
11	12	13	14	15

- | | | |
|----------------------------|---------------------------|----------------------------------|
| 1. $8 + (-7) - (-6)$ | 6. $17 - (-13) + (-10)$ | 11. $40 : (-1,25)$ |
| 2. $(-8) - (-7) + (-6)$ | 7. $17 + (-13) - (+10)$ | 12. $(-3) \cdot (-6) \cdot (+7)$ |
| 3. $(-8) - (+7) - (+6)$ | 8. $(-804) \cdot (-6)$ | 13. $(-3) \cdot (-6) \cdot (-7)$ |
| 4. $(-17) - (-13) - (-10)$ | 9. $804 : (-6)$ | 14. $(-2,5) : (-0,5)$ |
| 5. $(-17) - (+13) - (+10)$ | 10. $(-40) \cdot (-1,25)$ | 15. $25 : (-50)$ |

Schneide die Puzzleteilchen sorgfältig aus, löse die Aufgaben und klebe die Stücke an die richtige Stelle! Das fertige Bild kannst du ausmalen.



Lösungen:



- | | | |
|--------|----------|----------|
| 1. +7 | 6. +20 | 11. -32 |
| 2. -7 | 7. -6 | 12. +126 |
| 3. -21 | 8. +4824 | 13. -126 |
| 4. +6 | 9. -134 | 14. +5 |
| 5. -40 | 10. +50 | 15. -0,5 |