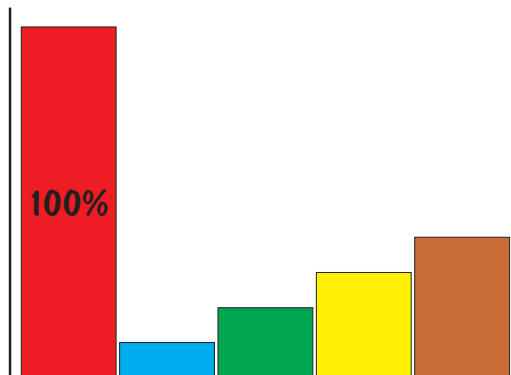


© 2005 A. Bergkemper

Welcher Balken zeigt 10% an?

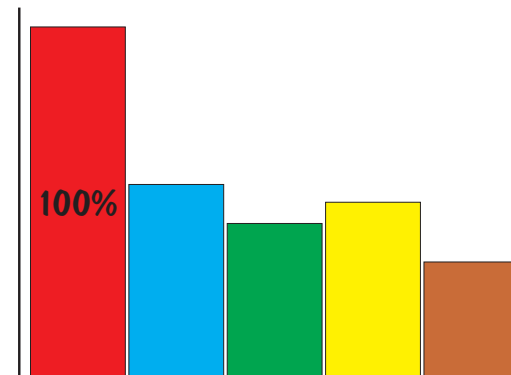
- der blaue
- der grüne
- der gelbe
- der braune



© 2005 A. Bergkemper

Welcher Balken zeigt 33% an?

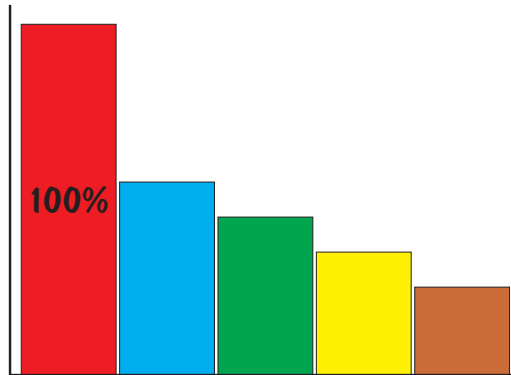
- der blaue
- der grüne
- der gelbe
- der braune



© 2005 A. Bergkemper

Welcher Balken zeigt 45% an?

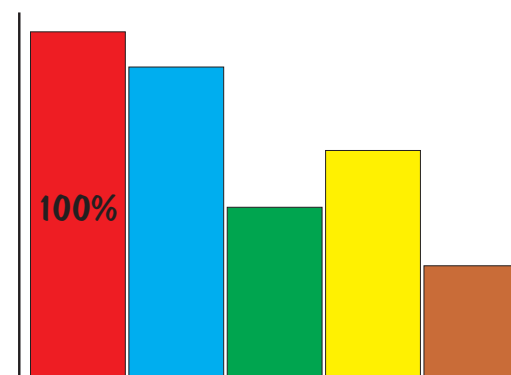
- der blaue
- der grüne
- der gelbe
- der braune



© 2005 A. Bergkemper

Welcher Balken zeigt 66% an?

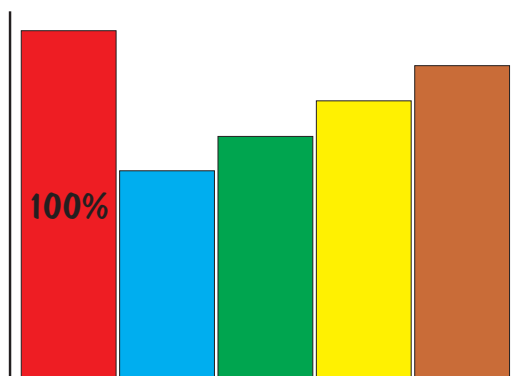
- der blaue
- der grüne
- der gelbe
- der braune



© 2005 A. Bergkemper

Welcher Balken zeigt 80% an?

- der blaue
- der grüne
- der gelbe
- der braune



© 2005 A. Bergkemper

Welcher Balken zeigt 15% an?

- der blaue
- der grüne
- der gelbe
- der braune

