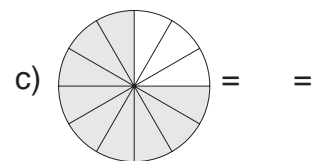
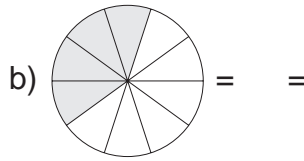
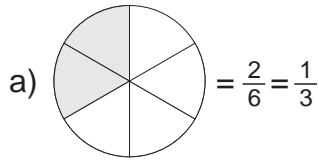


Übungsblatt zum Bruchrechnen

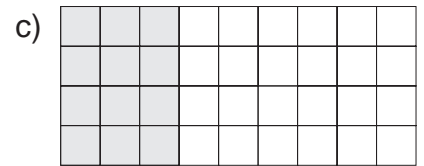
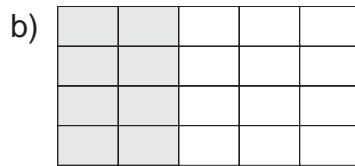
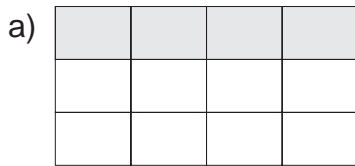
A. Bergkemper, 10/1997, Bruchrechnen02.CDR

Name, Klasse _____

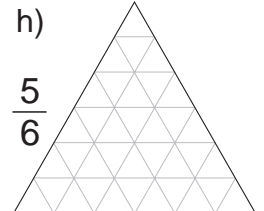
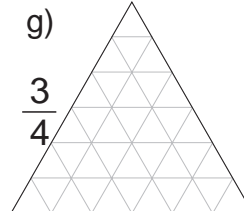
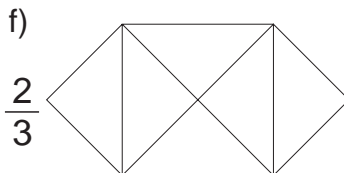
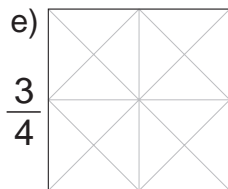
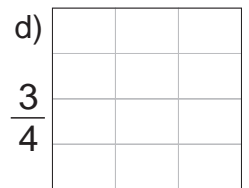


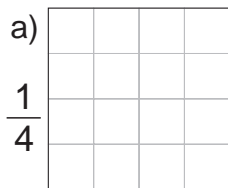
1. Bei der Figur in **Bild a)** bildet der grau gefärbte Bereich nicht nur *einen* Bruchteil ab. Finde auch bei den anderen Figuren mindestens zwei Brüche, die zum Bild passen!



2. Auch bei den nächsten Figuren passen mehrere Brüche zum Bild. Schreibe die Brüche unter das jeweilige Bild.



3. Jetzt umgekehrt: Male die angegebenen Bruchteile mit Bleistift aus. Die Linien im Inneren sollen dir dabei helfen.



4. Bei den nächsten Aufgaben benötigst du **ein Geo-Dreieck** oder mindestens ein Lineal. Du sollst wieder die angegebenen **Bruchteile in die Figuren einzeichnen**, diesmal fehlen aber die Hilfslinien. Mit ein bisschen Nachdenken und dem Geo-Dreieck schaffst du das schon!

