

Wie lange ist der Bus unterwegs?

A

Berechne die Fahrzeit des Busses von einem Ort zum anderen.

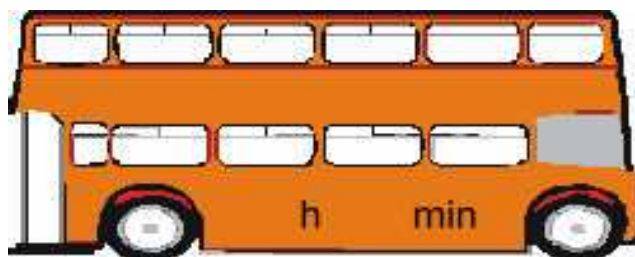
Trage das Ergebnis an der vorgesehenen Stelle im Bus ein.

Abfahrtszeit

Fahrzeit


Ankunftszeit

9:46
Uhr



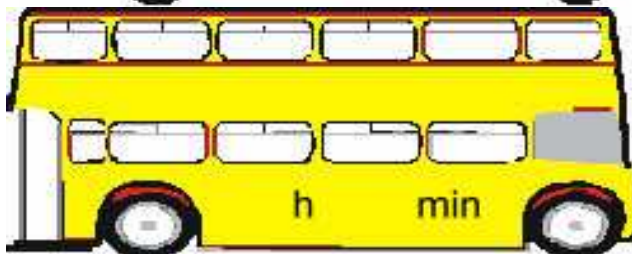
23:29
Uhr

2:36
Uhr



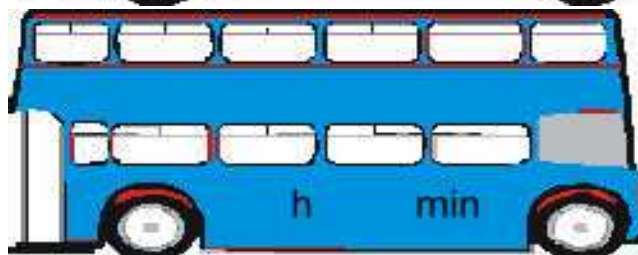
13:15
Uhr

1:47
Uhr



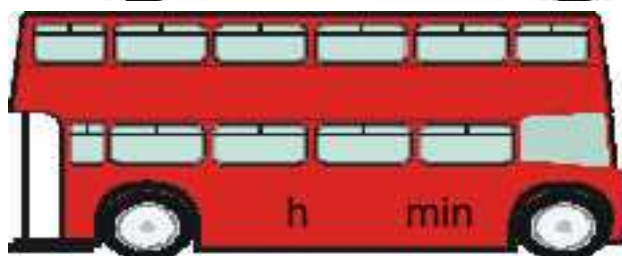
4:17
Uhr

3:30
Uhr



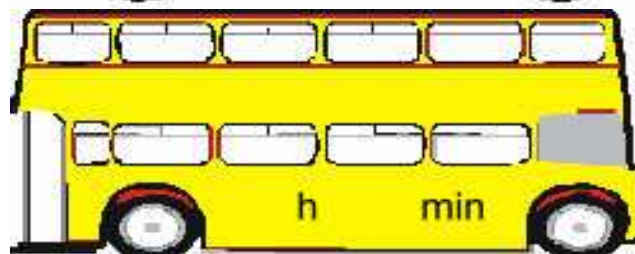
16:17
Uhr

8:44
Uhr



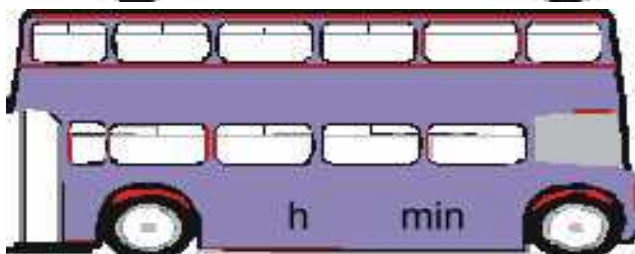
15:20
Uhr

9:41
Uhr



15:04
Uhr

6:40
Uhr



16:33
Uhr

Wie lange ist der Bus unterwegs?

B

Berechne die Fahrzeit des Busses von einem Ort zum anderen.

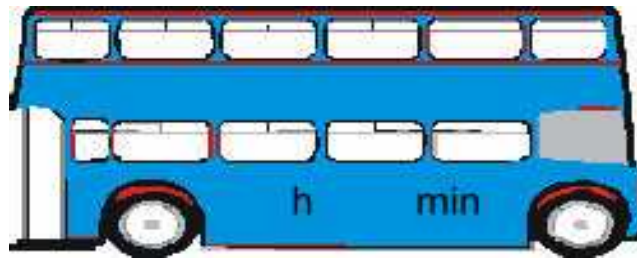
Trage das Ergebnis an der vorgesehenen Stelle im Bus ein.

Abfahrtszeit

Fahrzeit

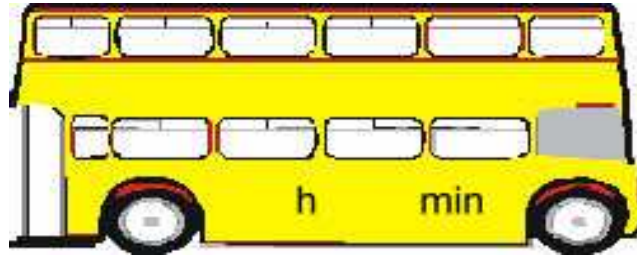
Ankunftszeit

1:38
Uhr




12:25
Uhr

4:49
Uhr



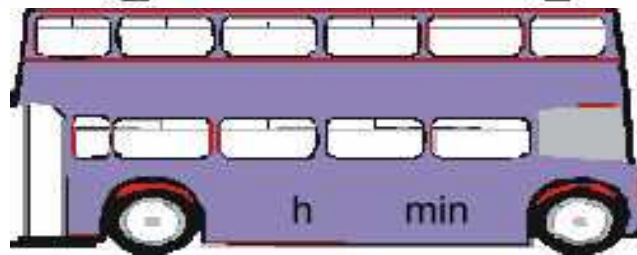
18:20
Uhr

6:47
Uhr




19:14
Uhr

2:48
Uhr



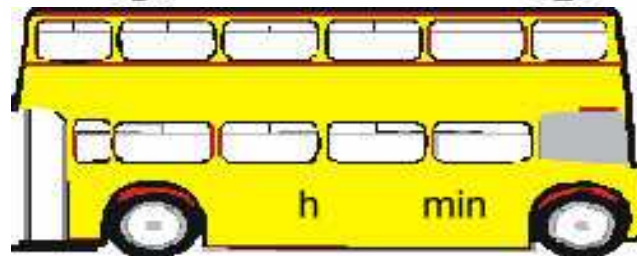
6:37
Uhr

2:34
Uhr



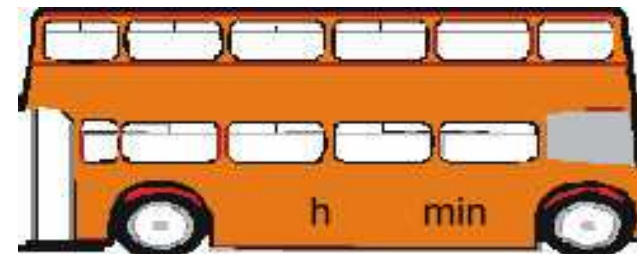
14:31
Uhr

1:49
Uhr



8:28
Uhr

8:40
Uhr



11:09
Uhr

Wie lange ist der Bus unterwegs? - Lösungen

Aufgabenblatt A			
Abf	h	min	Ank
9:46 Uhr	13	43	23:29 Uhr
2:36 Uhr	10	39	13:15 Uhr
1:47 Uhr	2	30	4:17 Uhr
3:30 Uhr	12	47	16:17 Uhr
8:44 Uhr	6	36	15:20 Uhr
9:41 Uhr	5	23	15:04 Uhr
6:40 Uhr	9	53	16:33 Uhr

Aufgabenblatt B			
Abf	h	min	Ank
1:38 Uhr	10	47	12:25 Uhr
4:49 Uhr	13	31	18:20 Uhr
6:47 Uhr	12	27	19:14 Uhr
2:48 Uhr	3	49	6:37 Uhr
2:34 Uhr	11	57	14:31 Uhr
1:49 Uhr	6	39	8:28 Uhr
8:40 Uhr	2	29	11:09 Uhr